



COĞRAFYA TYT DENEMELERİ

DENEME
1

cogrfyahocasi.com

1) Aşağıdakilerden hangisi diğer dördünden farklı bir nedene bağlı olarak ortaya çıkmıştır?

- A) Bir dağ yamacı boyunca yükselen hava kütesinin yağış bırakması
- B) Aynı enlemde yer alan, farklı yükseltiye sahip kentlerin sıcaklık değerlerinin farklı olması
- C) Buğday hasadının en geç Doğu Anadolu'da yapılması
- D) Bir yamaç boyunca bitki örtüsünün kuşaklar oluşturması
- E) Türkiye'de güneyden kuzeye doğru ortalama sıcaklığın azalması

2) Araştırmaları sonucunda "Türkiye'de haliçli ve fiyortlu kıyılar görülmez." yargısına ulaşan bir coğrafyacı, bu yargısına Türkiye ile ilgili aşağıdaki özelliklerden hangisini kanıt olarak gösteremez?

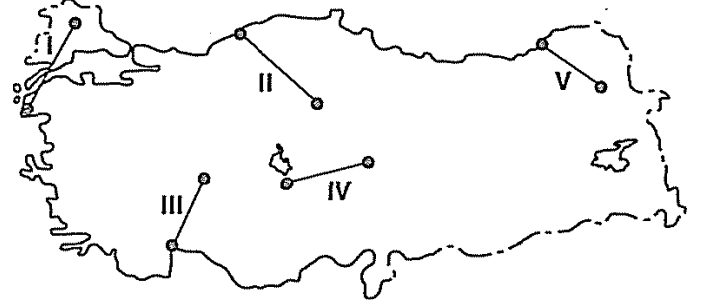
- A) Okyanusa kıyısının olmamasını
- B) Buzul şekillerine yalnızca yüksek dağlarda rastlanmasını
- C) Ilıman iklim kuşağında bulunmasını
- D) Kıyılarında çok sayıda koy, körfez ve yarımada bulunmasını
- E) Deniz seviyesindeki sıcaklıkların yıl boyunca 0°C'nin üzerinde olmasını

3) Dış kuvvetler tarafından aşındırılan malzemelerin yer kabuğunun çukur alanlarında biriktirilmesiyle tortul kayalar oluşur.

Aşağıdakilerden hangisi, tortul kayalardan biri değildir?

- A) Çakıl taşı
- B) Kireç taşı
- C) Taş kömürü
- D) Mermer
- E) Tebeşir

4) Yükselti ve engebenin kısa mesafelerde farklılık gösterdiği yörelerde iklim çeşitliliği fazladır.



Buna göre, yukarıdaki haritada gösterilen doğrultulardan hangisinde hareket edildiğinde, iklim koşullarında önemli bir değişiklik olmaz?

- A) I B) II C) III D) IV E) V

5) Aşağıda üç şehrin fonksiyonları ile ilgili özellikler verilmiştir.

I. Geniş kumsallara, kamp ve piknik alanlarına, alışveriş merkezlerine, ulaşım olanaklarına, doğal ve tarihi güzelliklere sahiptir.

II. Gelişmiş ulaşım ağı, hinterlandı geniş bir limanı, gelişmiş sanayi ve ticaret fonksiyonları bulunmaktadır.

III. Geniş tarım arazileri tarımı ve tarıma dayalı sanayiye geliştirmiş, ihtiyacı karşılayacak pazar imkanları oluşmuştur.

Bu şehirler aşağıdakilerden hangisinde verilmiştir?

- | I | II | III |
|--------------|------------|-----------|
| A) Bodrum | İskenderun | Karacabey |
| B) Bodrum | Sinop | Rize |
| C) Trabzon | Hopa | Konya |
| D) Amasya | Marmaris | Ödemiş |
| E) Kastamonu | Samsun | Ergani |



1) En fazla yağışı yaz döneminde alan savan, muson ve karasal iklim tipleri aşağıdakilerden hangisi bakımından benzerlik gösterir?

- A) Yağışlarının çoğunlukla konveksiyonel kökenli olması
- B) Mevsimlik rüzgârların etkili olması
- C) Ilıman iklim kuşağında yer almaları
- D) Yaz sıcaklıklarının 0°C'nin üzerinde olması
- E) Yağışların yıl boyunca yağmur şeklinde düşmesi

2) • Kuzey yarımkürede yer alan ve Ekvator'a olan kuş uçuşu uzaklığı 2775 km olan,
• Yerel saati başlangıç meridyeninin yerel saatinden 1 saat 16 dakika ileri olan bir merkezle ilgili aşağıdaki özelliklerden hangisine kesin ulaşılabilir?

- A) Özel konumuna
- B) Deniz seviyesinden yüksekliğine
- C) İklim tipine
- D) Coğrafi koordinatlarına
- E) Yüzey şekillerine

3) Aşağıdaki tabloda 1950 ve 2000 yıllarına ait kıta nüfusları (milyon kişi) verilmiştir.

Yıllar	Afrika	Asya	Avrupa	Amerika	Okyanusya
1950	221	1402	547	339	13
2000	811	3554	809	853	31

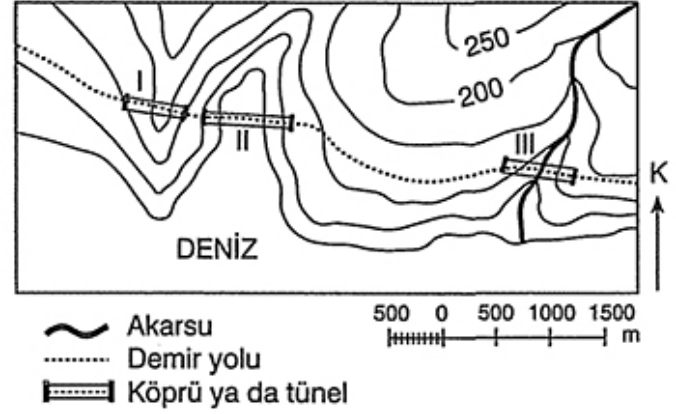
Tablodaki bilgiler,

- I. Nüfus artış hızının en fazla olduğu kıta Afrika'dır.
- II. Avrupa'daki nüfus artışında kıtaya yapılan göçler etkili olmuştur.
- III. Elli yıllık süreçte dünya nüfusu artmıştır.
- IV. Asya'nın nüfusu diğer kıtaların nüfuslarının toplamından fazladır.

yargılarından hangilerine ulaşmak için yeterlidir?

- A) I ve III
- B) I ve IV
- C) I, III ve IV
- D) II, III ve IV
- E) III ve IV

4) Aşağıdaki topografya haritasında bir yörede yapımı planlanan demir yolunun güzergâhıyla, bu güzergâhta yapılacak köprüler ve tüneller gösterilmiştir.



Bu proje ile ilgili aşağıdakilerden hangisi söylenemez?

- A) Yer şekillerinden dolayı projenin maliyeti yüksektir.
- B) II nolu alanda geçiş köprüyle sağlanacaktır.
- C) Akarsu üzerindeki köprünün uzunluğu yaklaşık 700 metre olacaktır.
- D) I numarayla gösterilen tünelin yükseltisi 200 metreden az olacaktır.
- E) Sis, buzlanma gibi olumsuz iklim koşulları en çok I nolu alanda ulaşımda aksaklıklara yol açacaktır.

5) Aşağıdakilerden hangisi, ülkelerin gelişmişlik düzeyinden etkilenmez?

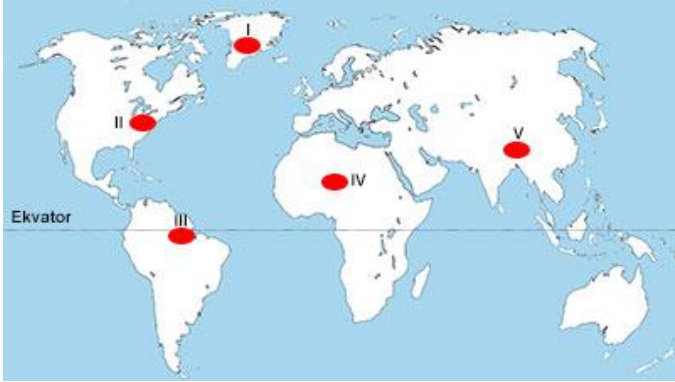
- A) Atmosfere salınan karbondioksit miktarı
- B) Kişi başına düşen milli gelir
- C) Doğal afetlerin neden olduğu kayıplar
- D) Kilometrekareye düşen kişi sayısı
- E) Endüstriyel ürünlerin dış satımdaki payı



1) İki farklı ölçekle çizilen Türkiye fiziki haritaları karşılaştırıldığında aşağıdakilerden hangisinin farklılık gösterdiği söylenebilir?

- A) Yeşil renkle gösterilen alanların
- B) Toros dağlarının yükseltisinin
- C) Türkiye'nin enlem ve boylam derecelerinin
- D) Akarsuların haritadaki uzunluğunun
- E) Göllerin gerçek alanının

2) Aşağıdaki haritada beş bölge gösterilmiş, bu bölgelerden dördünde yerleşmeyi sınırlandıran etmenler verilmiştir.



- Çöller
- Yüksek dağlar
- Yağmur ormanları
- Buzullar

Buna göre, hangi bölgeye ait etmen verilmemiştir?

- A) I B) II C) III D) IV E) V

3) Meteorolojiden yapılan açıklamada kuvvetli esen lodosun önümüzdeki günlerde sağanak yağışa dönüşeceği, bunun da su taşkınları ve sellere neden olabileceği belirtilmiştir.

Lodosun aşağıdaki kentlerden hangisinde daha az etkili olması beklenir?

- A) İzmir B) Antalya C) İstanbul
D) Sinop E) Çanakkale

4) Aşağıda, Türkiye'de "Adrese Dayalı Nüfus Kayıt Sistemi"ne göre 2009 yılı nüfus sayımı sonuçlarından bazıları verilmiştir.

- 2008 yılı itibarıyla 71.517.100 olan ülke nüfusu 72.561.312'ye ulaşmıştır.
- Nüfusun 36.462.470'i erkeklerden, 36.098.842'si kadınlardan oluşmaktadır.
- Toplam nüfusun % 75,5'i il ve ilçe merkezlerinde, % 24,5'i belde ve köylerde ikamet etmektedir.
- Nüfusun % 26'sı 0-14 yaş, %67'si 15-64 yaş, %7'si 65 ve daha yukarı yaş grubunda bulunmaktadır.

Bu verilere göre, Türkiye nüfusu ile ilgili aşağıdakilerden hangisine ulaşamaz?

- A) Kadın ve erkek nüfus oranına
- B) Çalışma çağındaki nüfusa
- C) Yıllık nüfus artış hızına
- D) Kırsal ve kentsel nüfus oranına
- E) Çalışan nüfusun sektörel dağılımına

5) Tuğba, yurt dışında yaşayan arkadaşı Sude ile internet ortamında sohbet ederken aralarında şu diyalog geçmiştir.

Tuğba: Türkiye'ye ne zaman geleceksiniz?

Sude: Kar yağışı nedeniyle bir haftadır uçak seferleri iptal ediliyor. Havalar düzelinece geleceğim.

Tuğba: Gerçekten mi? Çok ilginç! Burada insanlar denize giriyor. Sıcaklıkların 30-35 °C'yi bulduğu günler oluyor. Sıcaktan bunaldık.

Yukarıdaki diyalogda Tuğba ile Sude'nin yaşadığı kentlerin hava durumlarının farklı olmasının temel nedeni aşağıdakilerden hangisidir?

- A) Dünya'nın eksenini etrafındaki hareketi
- B) Dünya'nın yörüngesinin elips şeklinde olması
- C) Yer ekseninin yörünge düzlemine eğik olması
- D) Dünya'nın güneş etrafındaki dönüş yönü
- E) Dünya'nın şekli



COĞRAFYA TYT DENEMELERİ

DENEME

4

cogrfyahocasi.com

1) Aşağıdaki haritada bazı sıradağların uzanışı gösterilmiştir.



Bu sıradağlardan hangisinin en kuzeyi ile en güneyi arasında enleme bağı sıcaklık farkının daha fazla olması beklenir?

- A) Appalaş dağları B) İskandinav dağları
C) And dağları D) Atlas dağları
E) Himalayalar

2) • Eğimin azaldığı ve düzleştiği yerlerde, akarsuyun akış hızının azalmasına ve farklı yapıdaki kayaların varlığına bağlı olarak menderesler meydana gelir.

• Akarsuların taşıdıkları malzemeleri sığ kıyılarda biriktirmesiyle delta ovaları oluşur.

• Akarsular tarafından taşınan malzemeler eğimin azalması sonucu akarsu yatağında yer yer birikerek ırmak adalarını oluşturur.

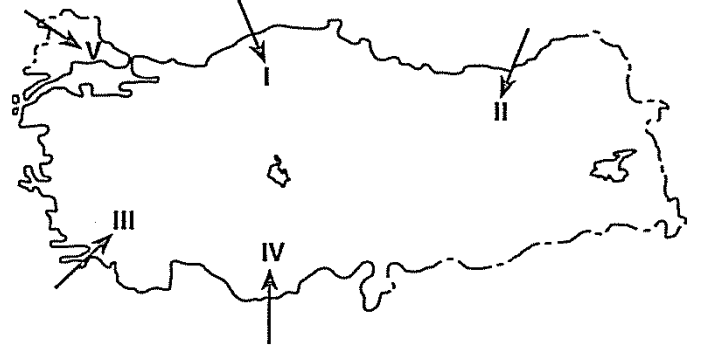
Yukarıda tanımlanan yer şekillerinin tamamına aşağıdaki akarsulardan hangisinin havzasında rastlanır?

- A) Çoruh
B) Ergene
C) Bartın
D) Gediz
E) Manavgat

3) Aşağıdakilerden hangisine bakılarak bir ülkenin gelişmişlik seviyesi hakkında yorum yapılabilir?

- A) İklim koşulları
B) Coğrafi konumu
C) Doğal kaynakları
D) Jeomorfolojik özellikleri
E) Dış satım ürünleri

4) Yamaç yağışları, bir dağ ya da dağ sırasına doğru hareket eden hava kütesinin yamaç boyunca yükselip soğumasıyla meydana gelir.



Buna göre, yukarıdaki haritada gösterilen hava kütlelerinden hangisinin yamaç yağışı oluşturması beklenmez?

- A) I B) II C) III D) IV E) V

5) Yeryüzünde doğal, beşeri, ekonomik ve siyasi özellikler açısından benzerlik gösteren alanlara **bölge** adı verilir.

Buna göre,

- iklim tipine göre, ılıman okyanus iklim bölgesinde
- nüfus yoğunluğuna göre, çok yoğun nüfuslu bölgede
- yer şekillerine göre, dağlık bölgede
- bitki örtüsüne göre, orman bölgesinde

yer alan şehir aşağıdakilerden hangisi olabilir?

- A) Rize B) Kırklareli C) İstanbul
D) Sinop E) Kastamonu



1) Bir merkezde Güneş'in doğuşundan batışına kadar geçen süreçte,

- I. Dünya'nın dönüş yönü
- II. aynı boydaki cisimlerin gölge boyu
- III. Güneş'in ufuktaki yükseltisi
- IV. yerçekimi

özelliklerinden hangilerinde değişiklik yaşanır?

- A) I ve II
- B) I ve III
- C) II ve III
- D) II ve IV
- E) III ve IV

2) Türkiye kış mevsiminde, kuzeyden gelen soğuk hava ile güneyden gelen ılık ve nemli havanın oluşturduğu cephe yağışlarının etkisinde kalır.

Bu yağışların Anadolu'nun iç kesimlerinde ve Trakya'da kar, Akdeniz ve Ege kıyılarında ise yağmur şeklinde düşmesi, bu yerlerin aşağıdakilerden hangisi bakımından farklı olmasının sonucudur?

- A) Bakı özellikleri
- B) Karasallık şiddeti
- C) Bitki örtüsü
- D) Toprak türü
- E) Yağış miktarı

3)

Harita	Ölçek
I	1 / 500.000
II	1 / 2.000.000

Yukarıdaki tabloda verilen ölçeklerle çizilen iki Türkiye haritası ile ilgili aşağıdakilerden hangisi söylenemez?

- A) I. haritada ayrıntı daha fazladır.
- B) II. haritanın ölçeği daha küçüktür.
- C) I. haritada boylamlar arası uzaklık daha azdır.
- D) II. harita kâğıt üzerinde daha dar alan kaplar.
- E) Van gölü I. haritada daha büyük alan kaplar.

4) Aşağıdaki tabloda X, Y ve Z şehirlerinde yer alan bazı kır yerleşmelerinin kurulduğu yerler ile bu yerleşmelerde yapılan ekonomik faaliyetler verilmiştir.

Kurulduğu Yerler	X	Y	Z	Ekonomik Faaliyetler
Orman içi	√			Ormancılık
Akarsu Boyu		√		Tarım
Deniz Kıyısı			√	Deniz Turizmi

Buna göre, X, Y ve Z şehirleri aşağıdakilerden hangisinde doğru olarak verilmiştir?

- | X | Y | Z |
|------------|---------|---------|
| A) Konya | Muğla | Ankara |
| B) Muğla | Trabzon | Konya |
| C) Ankara | Bolu | Trabzon |
| D) Bolu | Amasya | Muğla |
| E) Trabzon | Antalya | Konya |

5) Aşağıdaki tabloda İstanbul'un 1990, 2000 ve 2010 yıllarına ait kır ve kent nüfusu ile toplam nüfus miktarı verilmiştir.

	1990	2000	2010
Kır nüfusu	416.179	933.136	135.089
Kent nüfusu	6.779.594	9.085.599	13.120.596
Toplam nüfus	7.195.773	10.018.735	13.255.685

Tablodaki bilgiler, İstanbul'da toplam nüfusla birlikte kent nüfusunun son 20 yıl içinde hızlı bir değişim geçirdiğini göstermektedir.

Buna göre, İstanbul'da aşağıdaki özelliklerden hangisi bu değişim sürecinden daha az etkilenmiştir?

- A) Ulaşım ağı ve kalitesi
- B) Tarımsal arazilerin yüz ölçümü
- C) Göçün yönü
- D) Limanların iç ve dış ticarete kullanım oranı
- E) Ekonomik etkinliklerin çeşitliliği

