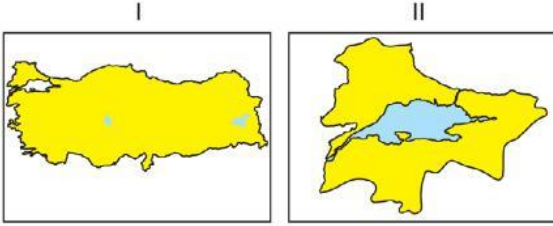


1) Yukarıdaki dünya haritası üzerinde işaretlenmiş alanlar için hangi projeksiyon sistemlerinin kullanılması bozulmayı en aza indirir?

- | I | II | III |
|---------------|------------|------------|
| A) Silindirik | Düzlem | Konik |
| B) Silindirik | Konik | Düzlem |
| C) Konik | Silindirik | Düzlem |
| D) Konik | Düzlem | Silindirik |
| E) Düzlem | Konik | Silindirik |

2) Aşağıda aynı boyuttaki kâğıtlara çizilmiş iki harita verilmiştir.

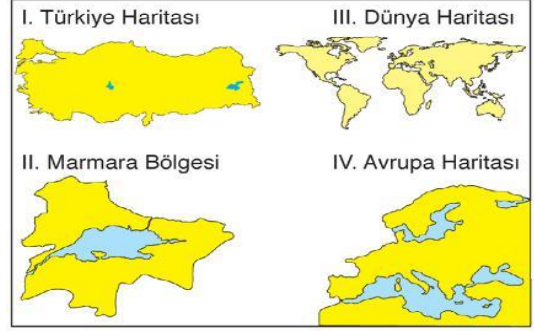


Bu haritalarla ilgili olarak aşağıdakilerden hangisi söylenemez?

- A) I. haritanın ölçeğinin paydası daha büyüktür.
B) II. haritada gösterilen alan daha büyüktür.
C) I. haritada gösterilen ayrıntı daha azdır.
D) II. haritada bozulmalar daha azdır.
E) I. haritada İstanbul-İzmit arası daha kısa bir çizgiyle gösterilir.

3) Konik projeksiyonla çizilmiş bir haritada verilen ülkelerin hangisinde bozulmanın daha fazla olduğu söylenebilir?

- A) Brezilya
B) İtalya
C) Suudi Arabistan
D) Türkiye
E) Kanada



4) Yukarıda verilen haritaların, büyük ölçekten küçük ölçeğe doğru sıralanışı nasıl olmalıdır?

- A) I – IV – III – II
B) II – I – IV – III
C) III – I – IV – II
D) III – II – IV – I
E) IV – III – I – II

5) Kuzey Kutup Noktası'nı merkez alan bir düzlem projeksiyonuna göre çizilmiş haritada aşağıdaki ülkelerin hangisinde bozulma en az olur?

- A) Brezilya
B) Mısır
C) Hindistan
D) Kanada
E) Endonezya

6) Coğrafya dersinde performans ödevi hazırlayan bir öğrenci grubu, İç Anadolu Bölgesi haritası çizirken öncelikle aşağıdakilerden hangisini belirlemelidir?

- A) Bölgenin akarsularını
B) Bölgedeki karayolu ağını
C) Bölgenin coğrafi koordinatlarını
D) Kullanılacak işaretleri
E) Haritanın kullanım amacını

7) Harita bilimine ne ad verilir?

- A) Klimatoloji
B) Jeomorfoloji
C) Hidrografya
D) Jeoloji
E) Kartografya



8) Silindir projeksiyon kullanılarak yapılmış bir Dünya haritasında aşağıda verilen ülkelerden hangisinde bozulma en azdır?

- A) Türkiye
- B) Irak
- C) İngiltere
- D) Brezilya
- E) Rusya

9) Aşağıdakilerden hangisi haritalarda bulunması gereken unsurlardan biri değildir?

- A) Başlık
- B) Çerçeve
- C) Yön oku
- D) Ölçek
- E) Lejant

10) Aşağıdaki ölçeklerden hangisiyle yapılmış olan haritada Ankara ilini ve ilçelerini daha detaylı olarak görmek mümkündür?

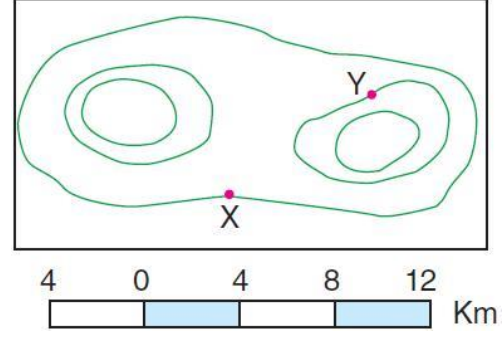
- A) 1/200.000
- B) 1/500.000
- C) 1/1.000.000
- D) 1/2.000.000
- E) 1/3.000.000

11) Ölçeği bilinen bir Türkiye idari haritasından yararlanılarak aşağıdakilerden hangisine ulaşamaz?

- A) Van Gölü'nün kaç kez küçültüldüğüne
- B) Volkanik dağların sayısına
- C) İllerin sınırlarına
- D) iki il arasındaki kuş uçuşu uzaklığına
- E) Ankara'nın coğrafi koordinatlarına

12) Aşağıdakilerden hangisini tüm kıta haritalarından yararlanılarak bulmak mümkün değildir?

- A) Uzunluk hesaplama
- B) Alan hesaplama
- C) Enlem
- D) Boylam
- E) Profil



13) Yukarıdaki izohips haritasında belirtilen X ve Y noktaları arasındaki kuş uçuşu uzaklık kaç km'dir?

- A) 4
- B) 8
- C) 12
- D) 16
- E) 20

Ölçeği 1/200.000'e kadar olan haritalara büyük ölçekli haritalar denir.

14) Buna göre, aşağıdakilerden hangisi büyük ölçekli haritaların özelliklerinden biri değildir?

- A) Küçültme oranının az olması
- B) Aynı ülkeyi gösteren küçük ölçekli haritaya göre, daha büyük boyutlu olması
- C) İzohipsler arasındaki yükselti farkının az olması
- D) Yalnızca fiziki haritaların yapımına elverişli olması
- E) Aynı boyuttaki kağıda çizilmiş küçük ölçekli haritaya göre kapsadığı gerçek alanın daha dar olması

15) Aşağıdaki haritalardan hangisi özel haritalar grubunda yer almaz?

- A) Maden haritası
- B) Jeoloji haritası
- C) Toprak haritası
- D) Fiziki harita
- E) Basınç haritası

