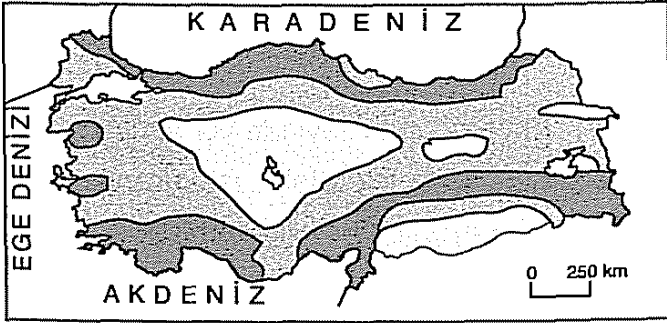


1) Aşağıdaki haritada, Türkiye'de yağış dağılışı gösterilmiştir.



0 - 500 mm 500 - 1000 mm 1000 mm'den çok

Yıllık yağış miktarı 0 - 250 mm arasında olan yerler kurak bölge, 250 - 500 mm arasında olan yerler yarı kurak bölge olarak nitelendirilmektedir.

Buna göre, aşağıdaki eşleştirilen illerden hangileri yağış miktarına göre yapılan bir sınıflandırmada kurak ya da yarı kurak bölge içinde yer alırlar?

- A) Antalya - İzmir
B) Hatay - Trabzon
C) Şanlıurfa - Yozgat
D) Zonguldak - Rize
E) Hakkâri - Kırklareli

2) Türkiye'de, bölge sınıflandırmasında kullanılan aşağıdaki coğrafi unsurlardan hangisi, yıllar içinde değişkenlik gösterebilir?

- A) Nüfus özellikleri B) Yer şekilleri
C) İklim D) Bitki örtüsü
E) Yükselti

- 3) I. Yer şekilleri
II. Kültürel özellikler
III. Ekonomik faaliyetler
IV. İklim özellikleri

Yukarıdakilerden hangileri, Türkiye'deki bölgelerin oluşturulmasında etkili olan beşerî faktörlerdendir?

- A) I ve II B) I ve III C) II ve III
D) II ve IV E) III ve IV

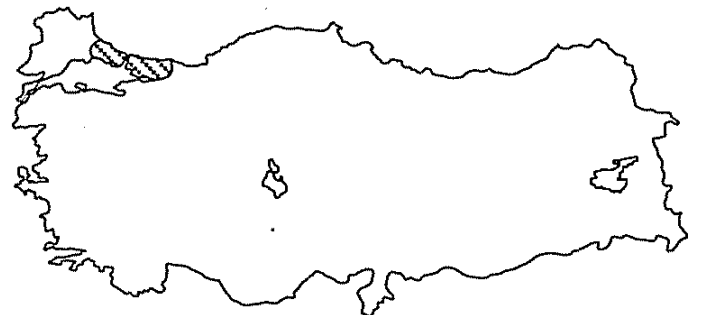
4) Aşağıdaki illerin hangisi, bitki örtüsüne göre yapılan bir bölge sınıflandırmasında diğerlerine göre farklı bir bölgede yer alır?

- A) Hatay B) Antalya
C) Afyonkarahisar D) İzmir
E) Çanakkale

5) Antalya ve çevresinin turizm bölgesi olarak nitelendirilmesinde, aşağıdakilerden hangisi daha çok etkili olmuştur?

- A) Ulaşım olanaklarının fazla olması
B) Maki türü bitkilerin yaygın olması
C) Yüzey şekillerinin engebeli olması
D) Yer altı su potansiyelinin fazla olması
E) Yıl içindeki yerli ve yabancı ziyaretçi sayısının fazla olması

6)



Haritada taranarak gösterilen alanla ilgili, aşağıdaki yargılardan hangisi yanlıştır?

- A) Sık nüfuslanmış bir bölgedir.
B) Sanayi bölgeleri içinde yer alır.
C) Yer şekilleri yönüyle sade, düz bölgedir.
D) Farklı madenlerin çıkarıldığı maden bölgesidir.
E) Akdeniz ve Karadeniz iklimlerinin geçiş bölgesinde yer alır.

7) Aşağıdaki illerin hangisi, iklim özelliklerine göre oluşturulan bölge sınıflandırmasında karasal iklim bölgesinde yer almaz?

- A) Trabzon B) Edirne C) Ankara
D) Hakkâri E) Sivas



- 8) I. Edirne
II. Eskişehir
III. Hakkâri
IV. Muğla

Türkiye’de yukarıdaki illerden hangileri, engebeli (arızalı) dağlık bölge sınırları içinde yer almaktadır?

- A) I ve II B) I ve III C) II ve III
D) II ve IV E) III ve IV

- 9) I. Karadeniz iklimi bölgesi
II. Dağlık bölgeler
III. Karasal iklim bölgesi
IV. Sık nüfuslu bölgeler

Türkiye’de yukarıdaki bölge sınıflandırmalarının hangilerinde, sıcaklık ve yağış özellikleri göz önünde bulundurulmuştur?

- A) I ve II B) I ve III C) II ve III
D) II ve IV E) III ve IV

10) Türkiye’nin aşağıdaki özelliklerinden hangisi, geniş alanları kaplayan bölgelerin oluşturulmasını güçleştirmektedir?

- A) Su kaynaklarının bol olması
B) Kuzey Yarım Küre’de yer alması
C) Yüzey şekillerinin engebeli olması
D) İki ayrı yarımada üzerinde kurulu olması
E) Doğu batı yönündeki genişliğinin fazla olması

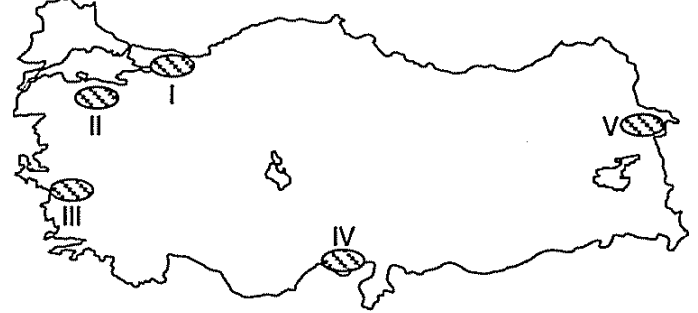
11) Türkiye sınırları içinde olmakla beraber dış ticaret, vergi ve gümrük mevzuatının uygulanması bakımından gümrük hattı dışında sayılan alanlara ne ad verilir?

- A) Turizm bölgesi
B) Maden bölgesi
C) Deprem bölgesi
D) Sık nüfuslu bölge
E) Serbest ticaret bölgesi

12) Coğrafi bölgelerin oluşturulmasında kullanılan beşerî faktörler, aşağıdakilerden hangisinde doğru eşleştirilmiştir?

- A) Nüfus - Yerleşme
B) Yer şekilleri - İklim
C) İklim - Bitki örtüsü
D) Konum - Yer şekilleri
E) Bitki örtüsü - Konum

13)



Haritada taranarak numaralandırılan alanların hangisi, nüfus özelliklerine göre oluşturulan bölge sınıflandırmasında sık nüfuslu bölgeler içinde yer almaz?

- A) I B) II C) III D) IV E) V

14) Türkiye’de aşağıdaki yerlerden hangisi, düz ovalık bölgeler grubunda yer almaz?

- A) Konya çevresi
B) Ergene Havzası
C) Menteşe Yöresi
D) Güney Marmara
E) Çukurova Yöresi

15) Türkiye’de maki bitki örtüsü bölgesi ile aşağıdakilerden hangisinin dağılışı daha çok paralellik gösterir?

- A) Sanayi bölgesi
B) Düz(ovalık) bölge
C) Karasal iklim bölgesi
D) Seyrek nüfuslu bölge
E) Akdeniz iklimi bölgesi

