

1) Çiftlik, mezra, kom, divan, oba, yayla gibi yerleşmelere köy altı yerleşmeleri denir. Bunlar köylerden küçüktür. Daha çok hayvancılık amaçlı veya yazları serinlemek amacıyla kurulmuştur.

**Buna göre, aşağıdaki coğrafi bölümlerin hangisinde bu tür yerleşmeler daha azdır?**

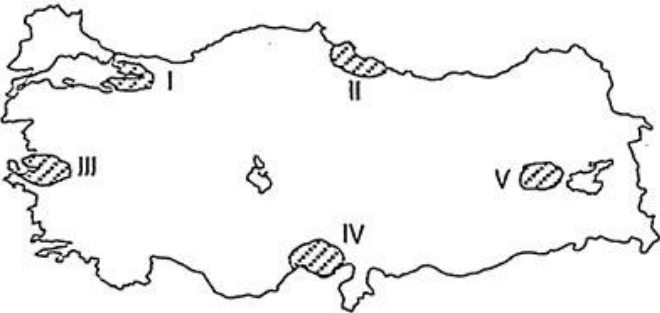
- A) Erzurum - Kars      B) Dicle  
C) Hakkâri              D) Doğu Karadeniz  
E) Güney Marmara

2) Yayla, ülkemizdeki geçici yerleşme birimlerindedir. İlk ortaya çıkışı, yaz aylarında hayvanları otlatmak ve onlardan elde ettikleri ürünleri değerlendirmek amacıyla olmuştur. Yazı yaylalarda geçiren köylüler, havanın soğuması ile köylerine geri dönerler.

**Türkiye'nin ekonomik koşullarına göre, hangi ilde yaylacılık faaliyetlerinin daha az yapıldığı söylenebilir?**

- A) Mersin      B) Sakarya      C) Rize  
D) Antalya      E) Erzurum

3) Sanayi faaliyetlerinin gelişmiş olduğu yörelerde şehirleşme oranı fazladır.



**Buna göre, haritada taranarak numaralandırılan yörelerin hangisinde şehirleşme oranı daha azdır?**

- A) I      B) II      C) III      D) IV      E) V

4) Türkiye'de, aşağıdaki yörelerin hangisinde volkanik tüflerin oyulmasıyla yapılan meskenler yaygın olarak bulunmaktadır?

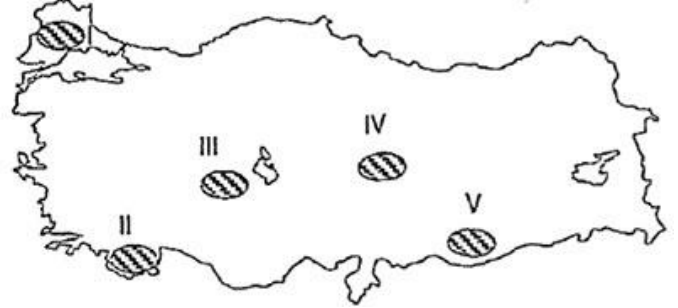
- A) Nevşehir  
B) Zonguldak  
C) Bursa  
D) Rize  
E) Hakkâri

5) Nüfusları 500 000'den fazla olan şehirlere büyük şehir ya da metropoliten şehir adı verilmektedir.

**Buna göre, aşağıdakilerden hangisi metropoliten şehirler arasında gösterilebilir?**

- A) Bursa      B) Kastamonu      C) Çankırı  
D) Rize      E) Çanakkale

6) Kerpiç, yıllık yağışın az olduğu kırsal yörelerde kullanılan bir yapı malzemesidir.



**Türkiye'nin yağış dağılışı göz önüne alındığında, haritadaki taralı yörelerden hangisinin kırsal kesimindeki yapılarda kerpiç kullanımının yaygın olmadığını söylenebilir?**

- A) I      B) II      C) III      D) IV      E) V

7) Doğu Karadeniz Bölümü'nün kıyı kesimlerinde dağlık yerleşmelerin hâkim olmasında, aşağıdakilerden hangisinin en az etkili olduğu söylenebilir?

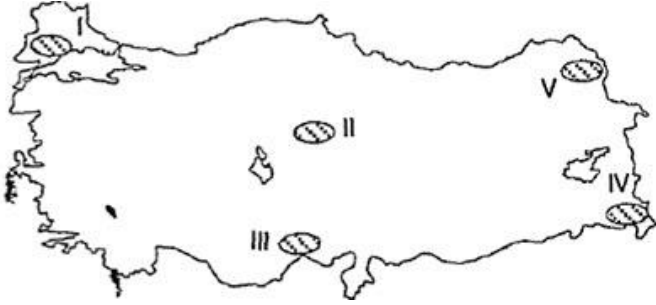
- A) Su kaynaklarının bol olmasının  
B) Yağış miktarının fazla olmasının  
C) Yer şekillerinin engebeli olmasının  
D) Doğal bitki örtüsünün orman olmasının  
E) Tarım alanlarının küçük parçalar hâlinde olmasının

8) Köy altı yerleşmelerinin devamlı ya da geçici özellik göstermesi, öncelikle aşağıdakilerden hangisine bağlıdır?

- A) İklim özelliklerine  
B) Nüfus yoğunluğuna  
C) Yer şekilleri özelliklerine  
D) Su kaynaklarının durumuna  
E) Yürütülen ekonomik faaliyetin türüne



9) Dağların yüksek kesimlerinde sıcaklık ve nem miktarı alçak kesimlere göre daha azdır. Bu nedenle yaz mevsiminde alçak kesimlerdeki sıcak ve bunaltıcı havadan kurtulmak isteyen insanlar yaylalara çıkmaktadır.



Buna göre, yaz mevsiminde haritada taranarak numaralandırılan yörelerin hangisinde, yukarıdaki açıklamada belirtilen duruma daha çok rastlanmaktadır?

- A) I B) II C) III D) IV E) V

10) Aşağıdaki kentlerden hangisi, sanayi kenti olarak nitelendirilemez?

- A) Batman B) Denizli C) Kırıkkale  
D) Muğla E) Kocaeli

11) Türkiye’de aşağıdaki özelliklerden hangisini taşıyan yerleşmeler kent olarak kabul edilir?

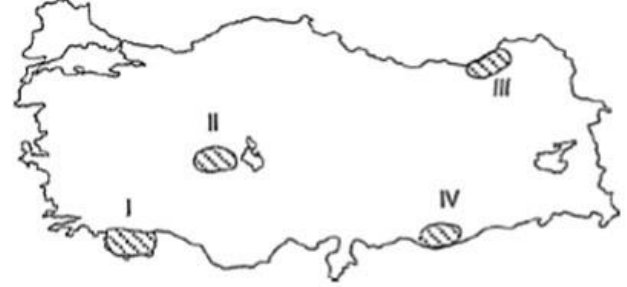
- A) Deniz kıyısında yer alan  
B) Zengin yer altı kaynakları olan  
C) Nüfusu 10 binin üzerinde olan  
D) Karasal iklim özellikleri görülen  
E) En önemli geçim kaynağı hayvancılık olan

12) Kırsal kesimde yerleşmelerin toplu ya da dağınık olması yer şekilleri, su kaynakları ve tarım alanlarının büyüklüğü gibi etkenlere bağlıdır.

Buna göre, aşağıdakilerin hangisindeki illerin kırsal kesiminde yaygın olan yerleşmeler doğru verilmiştir?

Toplu	Dağınık
A) Ankara	Kayseri
B) Giresun	Ordu
C) Antalya	Muğla
D) Konya	Trabzon
E) Edirne	Eskişehir

13) Yağışların bol olduğu yerlerde, arızalı ve eğimli bölgelerde, evlerin birbirine uzak olduğu bahçeler içerisinde insanlar dağınık olarak yerleşmişlerdir.



Buna göre, haritadaki taralı alanların hangilerinde dağınık yerleşmeler yaygındır?

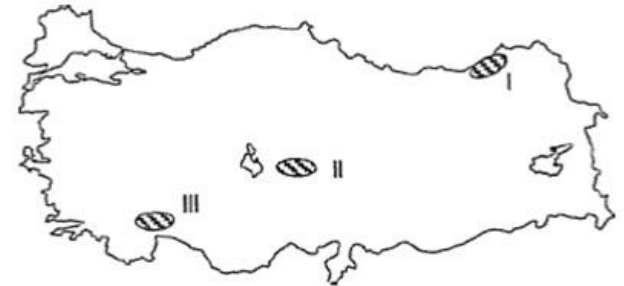
- A) Yalnız I B) I ve II C) I ve III  
D) II ve III E) III ve IV

14) I. Bağ evleri  
II. Çiftlik  
III. Kom  
IV. Ağıl

Yukarıdaki köy altı yerleşmelerinin hangilerinde, hayvancılık en önemli geçim kaynağıdır?

- A) I ve II B) I ve III C) II ve III  
D) II ve IV E) III ve IV

15) Aşağıdaki haritada, Türkiye’deki üç kırsal yerleşme alanı taranarak gösterilmiştir.



Buna göre, haritada taranarak gösterilen kırsal yerleşme alanlarındaki konutların yapımında doğal yapı malzemesi olarak, aşağıdakilerden hangilerinin daha çok kullanılması beklenir?

I	II	III
A) Ahşap	Taş	Kerpiç
B) Ahşap	Kerpiç	Taş
C) Kerpiç	Taş	Ahşap
D) Taş	Ahşap	Kerpiç
E) Taş	Kerpiç	Ahşap

