

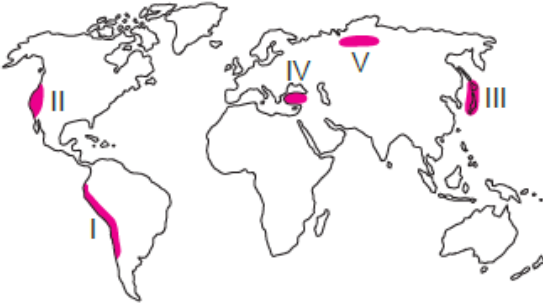
1) Aşağıdaki ülkelerin hangisinde çığ riski diğerlerine göre daha yüksektir?

- A) Mısır
- B) Hollanda
- C) Suudi Arabistan
- D) Avusturya
- E) Endonezya

2) İsveç, Norveç, Finlandiya ve İzlanda gibi yüksek enlemlerdeki ülkelerde, aşağıdaki doğal afetlerden hangisinin gerçekleşme olasılığı en azdır?

- A) Çığ
- B) Kasırga
- C) Kar fırtınası
- D) Volkanik patlama
- E) Yıldırım

3) Yer kabuğu içindeki kırılmalar nedeniyle ani olarak ortaya çıkan depremler önemli can ve mal kaybına neden olan afetlerdendir.



Buna göre yukarıdaki haritada gösterilen koyu renkli alanların hangisinde bu doğal afetin etkisi en azdır?

- A) I B) II C) III D) IV E) V

4) İtalya, Yunanistan, İspanya ve Türkiye’de çok sayıda orman yangını afetinin yaşanmasındaki temel neden aşağıdakilerden hangisidir?

- A) Şiddetli yaz kuraklığının yaşandığı, Akdeniz iklim bölgesinde bulunmaları
- B) Bir yarımada ülkesi olmaları
- C) Deprem afetinin sık yaşandığı ülkeler olmaları
- D) Yer şekillerinin dağlık ve engebeli olması
- E) Toprak özelliklerinin benzerlikler göstermesi

5) Heyelan ve toprak kayması gibi kütle hareketlerine;

- I. deprem,
- II. volkanik patlama,
- III. aşırı yağış

gibi faktörlerden hangileri neden olmaktadır?

- A) Yalnız I B) Yalnız II C) Yalnız III
- D) I ve II E) I, II ve III

6) Aşağıdaki ülke ve bu ülkelerde sıklıkla yaşanan doğal afet eşleştirmelerinden hangisi yanlıştır?

Ülke	Sıklıkla yaşanan doğal afet
A) Suudi Arabistan	Sel ve taşkın
B) Türkiye	Deprem
C) Bangladeş	Sel ve taşkın
D) ABD	Kasırga
E) Japonya	Tsunami

7) Aynı büyüklükteki bir depremin veya aynı şiddetteki bir doğal afetin aşağıdaki ülkelerden hangisinde daha büyük maddi zararlara neden olacağı söylenebilir?

- A) Japonya B) Bangladeş
- C) Haiti D) Filipinler
- E) Endonezya

8)



Yukarıdaki haritada numaralandırılan alanlardan hangisi beşinci dereceden deprem kuşağındadır?

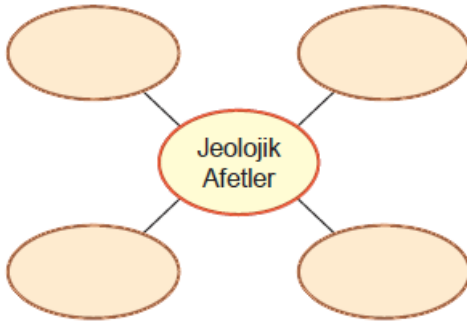
- A) I B) II C) III D) IV E) V



9) Aşağıdakilerden hangisi doğal afetlerin meydana gelmesinde etkili olan beşerî faktörlerdendir?

- A) Meteorolojik özellikler
- B) Klimatolojik özellikler
- C) Rekreasyon faaliyetleri
- D) Jeolojik özellikler
- E) Jeomorfolojik özellikler

10)



Kavram haritasında boş bırakılmış kutucuklara aşağıdakilerden hangisinin yazılması doğru olmaz?

- A) Deprem
- B) Lahar akıntısı
- C) Tsunami
- D) Deniz altı volkanizması
- E) Tayfun

11)

- I. Erozyon
- II. Tektonik deprem
- III. Orman yangını

Yukarıdaki doğal afetlerden hangilerinin oluşumunda insan etkisinin olduğu söylenemez?

- A) Yalnız I
- B) Yalnız II
- C) Yalnız III
- D) I ve II
- E) II ve III

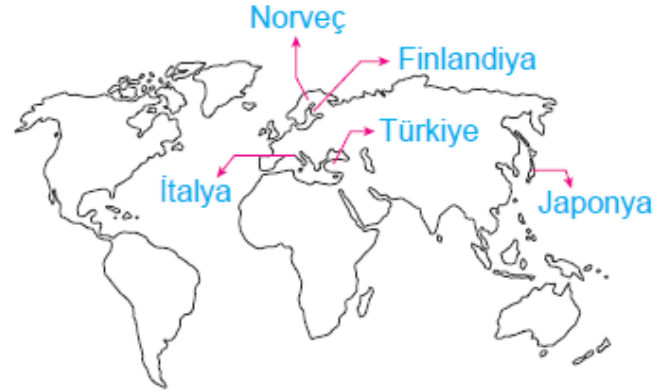
12) Okyanusal ve kıtasal levhaların birbirine yaklaştığı yerde;

- I. volkanik dağ zincirleri,
- II. dağ sıraları,
- III. okyanus çukurları

yer şekillerinden hangileri oluşur?

- A) Yalnız I
- B) Yalnız II
- C) Yalnız III
- D) II ve III
- E) I, II ve III

13)



Yukarıdaki haritada gösterilen ülkelerden hangisinde tsunami doğal afetinin yaşanma olasılığı daha yüksektir?

- A) Finlandiya
- B) Norveç
- C) İtalya
- D) Japonya
- E) Türkiye

14) Tsunami riski yüksek olan alanlarda can kayıplarını azaltmak için;

- I. erken uyarı sistemlerinin kurulması ve kurulu sistemlerin etkin çalışması,
- II. halkın bilinçlendirilmesi,
- III. tsunami alarmlarından hemen sonra kıyı şeritlerinin boşaltılması

çalışmalarından hangileri yapılmalıdır?

- A) Yalnız I
- B) Yalnız II
- C) Yalnız III
- D) I ve II
- E) I, II ve III

15) Çok sayıda kırıklarla parçalanmış olan Anadolu geçmişte çok şiddetli ve yıkıcı depremler yaşamış, bugün de yaşamaktadır. Yaşanan bu depremler sonucunda da önemli ölçüde can ve mal kayıpları meydana gelmektedir.

Aşağıdakilerden hangisi bu depremlerin meydana getirdiği zararı azaltmak için yapılabilecek çalışmalardan biri değildir?

- A) Yapıları depreme dayanıklı biçimde inşa etmek
- B) Fay hatlarından uzak sağlam zeminlere yerleşmek
- C) Erken uyarı sistemleri kurmak
- D) Olası deprem için uygun afet yönetimi ve afet planları hazırlamak
- E) Deprem olayına karşı risk değerlendirmeleri yapmak

