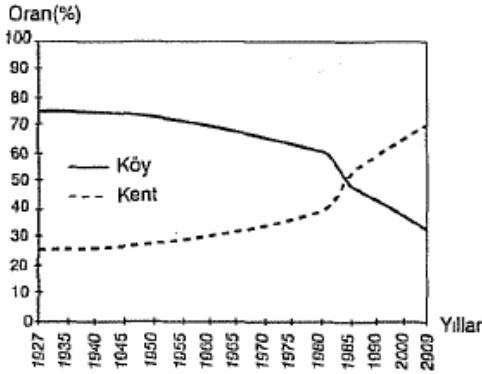


1)

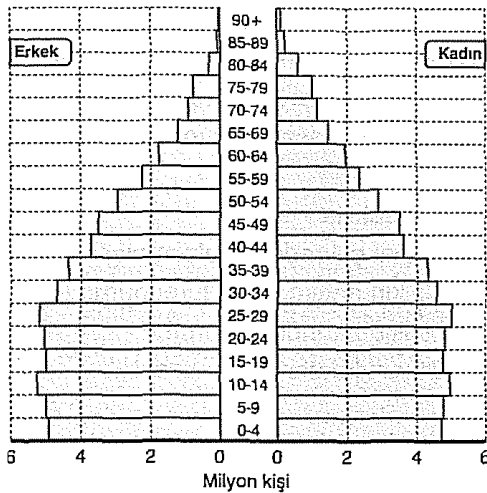


Yukarıdaki grafik, Türkiye'nin 1927-2009 yılları arasındaki köy ve kent nüfus oranlarının değişimini göstermektedir.

Bu grafikte köy ve kent nüfusunun 1980 -1985 yılları arasında kesişmesi, aşağıdakilerden hangisini gösterir?

- A) Köy nüfusunun sürekli arttığını
- B) Köy ve kent nüfusunun eşit olduğunu
- C) Köy nüfusunun daha fazla olduğunu
- D) Kırsal kesimde doğum oranının arttığını
- E) Kentlerde doğum oranının arttığını

2)



Yukarıdaki grafikte Türkiye’de 2009 yılında nüfusun yaş gruplarına ve cinsiyete göre dağılımı gösterilmiştir.

Türkiye’de genç nüfus oranının fazla olmasında aşağıdakilerden hangisi en çok etkilidir?

- A) Evlenme yaşının küçük olması
- B) Doğum oranının yüksek olması
- C) Dışarıdan gelen göçler
- D) Sağlık hizmetlerinin gelişmiş olması
- E) Beslenme imkânlarının gelişmiş olması

3) 1927 yılında 631 bin olan İstanbul’un nüfusu günümüzde 10 milyonu geçmiştir.

Aşağıdakilerden hangisi İstanbul için bu durumun oluşturduğu sonuçlardan biri değildir?

- A) Yerleşim alanları genişlemiştir
- B) Konut sayısı artmıştır
- C) Doğum oranları artmıştır
- D) Çevre kirliliği artmıştır
- E) Tarım alanları azalmıştır

4) Önceleri kırsal kesimlerinde tarım ve hayvancılık faaliyetlerinin yaygın olduğu bir Anadolu kentinde; son yıllarda, tarımsal ve hayvansal ürünleri işleyen fabrika, atölye ve kombina tesislerinin sayısı artmıştır.

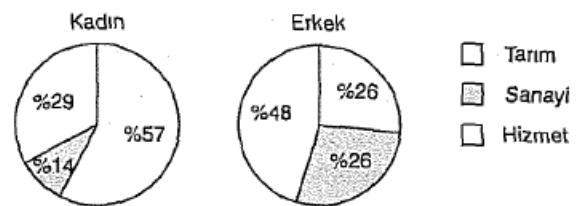
Yukarıda anlatılan duruma paralel olarak bu kentte;

- I. halkın gelir seviyesi,
- II. çevre illere olan göç,
- III. nitelikli işçi sayısı

özelliklerinden hangilerinde artış olması beklenmez?

- A) Yalnız I
- B) Yalnız II
- C) Yalnız III
- D) I ve III
- E) II ve III

5)



Yukarıdaki grafiklerde Türkiye’de 2004 yılında 15 yaş üzerindeki kadın ve erkek nüfusun ekonomik faaliyet kollarına göre dağılımı gösterilmiştir.

Aşağıdakilerden hangisi grafiklerden çıkarılabilecek bir sonuçtur?

- A) Hizmet sektöründe çalışan kadın sayısı, sanayi sektöründeki erkek sayısından fazladır.
- B) Çalışan kadınların çoğu tarım sektöründedir.
- C) Çalışan kadın sayısı erkek sayısından fazladır.
- D) Sanayide çalışan erkek sayısı tarımda çalışanlardan daha fazladır.
- E) Çalışan kadınların sektörlere göre dağılımı daha düzenlidir.



6) 1990 nüfus sayımına göre Türkiye’de nüfus artış hızı %₀ 22, 2000 sayımına göre %₀ 18, 2009 sayımına göre ise %₀ 14,5’tir.

Türkiye’de nüfus artış hızının azalmasının temel nedeni aşağıdakilerden hangisidir?

- A) Doğum oranlarının azalması
- B) Nüfusun azalması
- C) Ölüm oranlarının artması
- D) Dış göçlerin fazla olması
- E) Ortalama yaşam süresinin uzaması

7) Karadeniz Bölgesi’nde nüfus yoğunluğunun Türkiye ortalamasının altında olması aşağıdakilerden hangisiyle açıklanamaz?

- A) Yer şekillerinin engebeli olmasıyla
- B) İş olanaklarının az olmasıyla
- C) Tarım alanlarının az olmasıyla
- D) Yağış miktarının fazla olmasıyla
- E) Çalışabilecek nüfusun diğer bölgelere göç etmesiyle

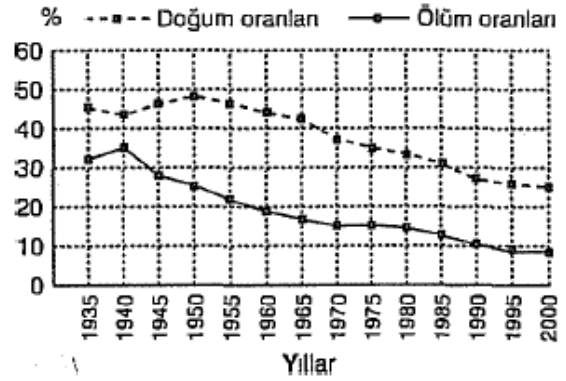
8) Doğu Anadolu Bölgesi’nde nüfusun daha çok çöküntü ovalarında toplanmasında aşağıdakilerden hangisi etkili olmamıştır?

- A) Önemli ulaşım yollarının geçmesi
- B) Bazı endüstri kollarının gelişmiş olması
- C) Tarım alanlarının geniş yer tutması
- D) İklim koşullarının daha elverişli olması
- E) Bitki örtüsünün gür olması

9) Ülkemizde tarımla uğraşan nüfus miktarı artarken, tarımsal nüfus oranının azalması aşağıdakilerden hangisine bağlanabilir?

- A) Tarım ürünlerinden alınan verimin artmasına
- B) Tarımsal ürünlerin ihracat içindeki payının düşmesine
- C) Çayır ve mera alanlarının tarım arazilerine dönüştürülmesine
- D) Tarım dışı sektörlerde çalışanların daha fazla artış göstermesine
- E) Tarım sektöründe çalışan nüfusun yaş ortalamasının düşük olmasına

10) Aşağıdaki grafikte, Türkiye’de 1935-2000 yılları arasındaki doğum ve ölüm oranları verilmiştir.



Grafikteki bilgilere göre, aşağıdakilerden hangisi söylenemez?

- A) Türkiye nüfusu sürekli artmaktadır.
- B) Doğum oranları ile ölüm oranları arasındaki fark 1940 yılında en azdır.
- C) 1970’den sonra nüfus artış hızı sürekli azalmıştır.
- D) Son yıllarda doğum oranları ile ölüm oranları arasında paralellik vardır.
- E) Son yıllardaki doğum oranlarının az olmasının en önemli nedeni kadınların iş hayatına girmesidir.

11) Yukarı Kızılırmak Bölümü’nde nüfusun seyrek olmasında aşağıdakilerden hangisi etkili olmamıştır?

- A) Yer şekillerinin engebeli olması
- B) Yüz ölçümünün küçük olması
- C) İkliminin sert ve karasal olması
- D) Ortalama yükseltisinin fazla olması
- E) Endüstrinin fazla gelişmemiş olması

12) Kıyı Ege Bölümü’nde nüfus yoğunluğu fazla olmasına karşın, aynı bölümde bulunan Menteşe Yöresi’nde nüfus yoğunluğu azdır.

Bu durum üzerinde aşağıdakilerden hangisinin etkisi yoktur?

- A) Yer şekillerinin engebeli olması
- B) Tarım alanlarının az olması
- C) İklim şartlarının elverişsiz olması
- D) Sanayi tesislerinin yetersiz olması
- E) Ulaşımın gelişmemiş olması

