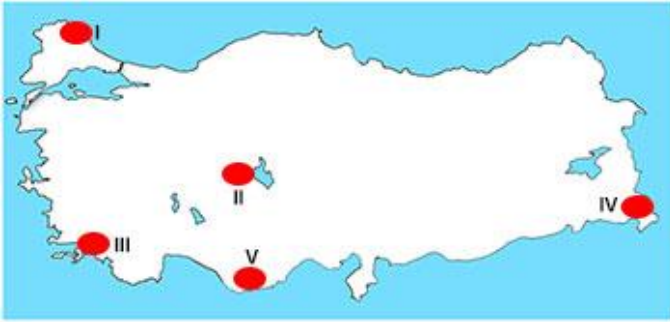


1) Türkiye'de nüfusun dağılışı üzerinde aşağıdakilerden hangisinin etkisi en azdır?

- A) İş imkânlarının
- B) Verimli tarım alanlarının
- C) Turizm potansiyelinin
- D) Volkanik arazilerin
- E) Su kaynaklarının

2)



Yukarıdaki haritada nüfus yoğunluğunun az olduğu bazı yöreler taranarak gösterilmiştir.

Bu yörelerden hangisinin nüfus yoğunluğunun az olmasının nedeni yanlış verilmiştir?

- A) I --> ulaşım yollarına ve sanayi tesislerine uzak olması
- B) II --> yağışın az, arazinin tarıma elverişli olmaması
- C) III --> yaz mevsiminin sıcak ve kurak geçmesi
- D) IV --> iklim ve yer şekillerinin elverişsiz olması
- E) V --> karstik arazinin yaygın olması

3) Aşağıdaki yerlerden hangisinde nüfusun seyrek olmasında;

- tarımsal faaliyetlerin kısıtlı olması,
- yer şekillerinin engebeli olması,
- ulaşım imkânlarının sınırlı olması

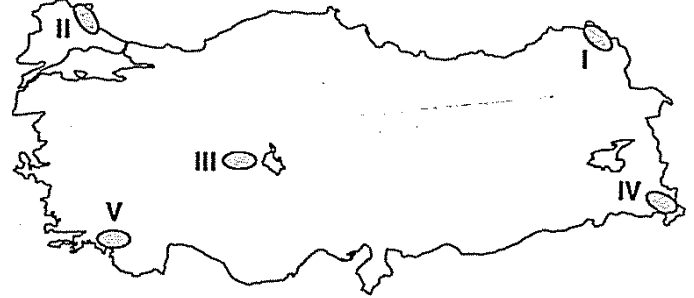
faktörlerinin etkili olduğu söylenebilir?

- A) Konya çevresi
- B) Şanlıurfa çevresi
- C) Taşeli Platosu
- D) Orta Kızılırmak
- E) Tokat çevresi

4) Aşağıdakilerden hangisi, Türkiye'de yerleşilebilen alanları sınırlandıran etmenlerden biri değildir?

- A) Kurak yerler
- B) Dağlık alanlar
- C) Verimsiz topraklar
- D) Graben alanları
- E) Ormanlık alanlar

5) Yükseltinin fazla, yer şekillerinin engebeli olduğu yerlerde nüfus genellikle seyrek olur.



Buna göre, haritada gösterilen taralı yerlerin hangisinde nüfusun seyrek olması farklı bir nedene bağlıdır?

- A) I
- B) II
- C) III
- D) IV
- E) V

6) Doğu Anadolu Bölgesi'nde nüfusun daha çok çöküntü ovalarında toplanmasında aşağıdakilerden hangisi etkili olmamıştır?

- A) Önemli ulaşım yollarının geçmesi
- B) Bazı endüstri kollarının gelişmiş olması
- C) Tarım alanlarının geniş yer tutması
- D) İklim koşullarının daha elverişli olması
- E) Bitki örtüsünün gür olması

7) Kıyı Ege Bölümü'nde nüfus yoğunluğu fazla olmasına karşın, aynı bölümde bulunan Menteşe Yöresi'nde nüfus yoğunluğu azdır.

Bu durum üzerinde aşağıdakilerden hangisinin etkisi yoktur?

- A) Yer şekillerinin engebeli olması
- B) Tarım alanlarının az olması
- C) İklim şartlarının elverişsiz olması
- D) Sanayi tesislerinin yetersiz olması
- E) Ulaşımın gelişmemiş olması



8) İç Anadolu Bölgesi'ndeki Tuz Gölü çevresi, bölgenin kenarındaki dağ eteklerine oranla yerleşmeye daha az elverişlidir.

Bu duruma neden olan faktör aşağıdakilerden hangisidir?

- A) Kış şartlarının uzun sürmesi
- B) Yağış miktarının az olması
- C) Ulaşım imkânlarının sınırlı olması
- D) Aktif depremlerin olması
- E) Yer altı kaynaklarının yetersiz olması

9) Yukarı Kızılırmak Bölümü'nde nüfusun seyrek olmasında aşağıdakilerden hangisi etkili **olmamıştır**?

- A) Yer şekillerinin engebeli olması
- B) Yüz ölçümünün küçük olması
- C) İkliminin sert ve karasal olması
- D) Ortalama yükseltisinin fazla olması
- E) Endüstrinin fazla gelişmemiş olması

10) Aşağıdakilerden hangisinde, doğal koşulların belirleyici etkisinden söz **edilemez**?

- A) İstanbul'da köy altı yerleşmelerinin az olması
- B) Rize'de kıyı boyu yerleşmelerin yaygın olması
- C) Şanlıurfa'nın kırsal kesiminde taş ve toprak yapılı konutların bulunması
- D) Eskişehir'de toplu kır yerleşmelerinin yaygın olması
- E) Manisa'daki yerleşmelerin çoğunun ovalar üzerinde yoğunlaşması

11) Tuz Gölü çevresinde yerleşme sayısının az, nüfusun seyrek olmasında aşağıdakilerden hangisi **daha etkili olmuştur**?

- A) Karstik arazilerin yaygın olması
- B) Doğal bitki örtüsünün seyrek olması
- C) Kuraklığın şiddetli olması
- D) Kış sıcaklıklarının düşük olması
- E) Yükseltinin fazla olması

12) Güney Marmara ve Orta Karadeniz bölümündeki çöküntü ovalarının sık nüfuslanmış olmasında;

- I. tarım,
- II. ulaşım,
- III. turizm,
- IV. madencilik

ekonomik etkinliklerinden hangileri daha etkili olmuştur?

- A) I ve II
- B) I ve III
- C) I ve IV
- D) II ve IV
- E) III ve IV

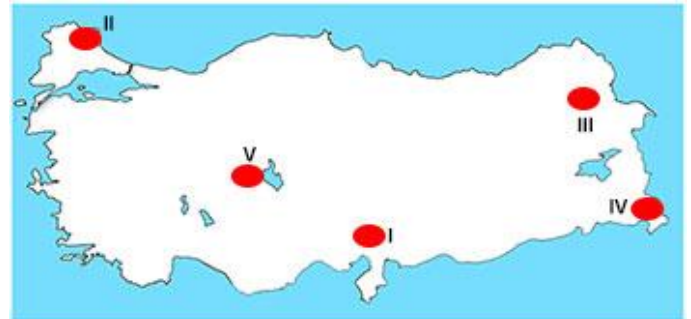
13) Doğu Karadeniz Bölümü'nde nüfusun dağılışı, incelendiğinde kıyı kuşağının sık nüfuslandığı fakat iç kesimlerin seyrek nüfuslu olduğu gözlenir.

Bu durumun öncelikli nedeni aşağıdakilerden hangisidir?

- A) Kıyı kuşağında hayvancılığın, iç kesimlerde tarımın temel geçim kaynağı olması
- B) Topraklardaki kireç oranının farklı olması
- C) Ormanların kıyı kuşağında yoğunlaşması
- D) Yüksek sıradağların kıyıya paralel uzanması
- E) Aktif fay hatlarının iç kesimlerde bulunması

14) Türkiye'de yerleşmeyi sınırlandıran başlıca faktörler; yükselti, kuraklık, düşük sıcaklık, karstik yapı ve engebeli arazi olarak sıralanabilir.

Aşağıdaki haritada, yerleşmelerin az olduğu bazı yöreler numaralandırılmıştır.



Bu yörelerden hangisinde yerleşmeyi sınırlandıran faktörler diğerlerinden farklıdır?

- A) I
- B) II
- C) III
- D) IV
- E) V

