

- I. Terra rossa → Akdeniz kıyıları
 II. Çernezyom → İç Batı Anadolu
 III. Alüvyal → Çukurova
 IV. Kahverengi bozkır → İç ve Güneydoğu Anadolu
 V. Kahverengi orman → Karadeniz kıyıları
- 1) Ülkemizdeki bazı toprak türleri ve bu toprakların yaygın olduğu alanlarla ilgili yukarıda yapılan eşleştirmelerden hangisi yanlıştır?**

A) I B) II C) III D) IV E) V

- I. Podzol
 II. Çernezyom
 III. Tundra
 IV. Terra rossa
 V. Kahverengi orman

2) Türkiye'de yukarıda verilen toprak türlerinden hangisine enlem etkisinden dolayı rastlanmaz?

A) I B) II C) III D) IV E) V

Türkiye'de; Akdeniz kıyılarında terra rossa, Karadeniz kıyılarında kahverengi orman, İç ve Güneydoğu Anadolu'da ise kestane renkli bozkır toprakları yaygındır.

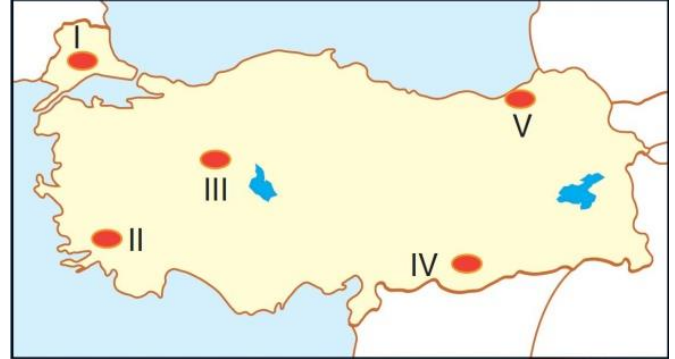
3) Buna göre, toprak türlerinin dağılışını belirleyen temel faktör aşağıdakilerden hangisidir?

- A) Yer şekilleri B) Ana kaya
 C) Zaman D) İklim özellikleri E) Bitki örtüsü

4) Aşağıdakilerden hangisi, kahverengi orman topraklarına ait bir özellik değildir?

- A) Yağış fazlalığından dolayı yıkanmaya maruz kalmıştır.
 B) Organik madde bakımından zengin ve koyu renklidir.
 C) Toprak içerisindeki tuz ve kireç oranı azdır.
 D) Kalker ve jips gibi kayaçların yaygın olduğu alanlarda oluşur.
 E) Çay ve kivi tarımına elverişlidir.

Yağışlı bölgelerde yıkanma olayı sonrası toprak içerisindeki madensel tuz ve kireç oranı azalır.



5) Buna göre, iklim özellikleri düşünüldüğünde haritada gösterilen alanlardan hangisinde toprak içerisindeki tuz ve kireç oranının en az olması beklenir?

A) I B) II C) III D) IV E) V

Aşağıdaki tabloda Türkiye'de bulunan bazı topraklar ile üzerlerinde yaygın olarak yetiştirilen tarım ürünleri eşleştirilmiştir.

	Toprak Türü	Yetiştirilen Tarım Ürünü
I.	Terra rossa	Turunçgil
II.	Kahverengi orman	Kivi
III.	Kolüvyal	Bağcılık
IV.	Çernezyom	Çay
V.	Kestane renkli bozkır	Tahıllar

6) Yapılan eşleştirmelerden hangisi yanlıştır?

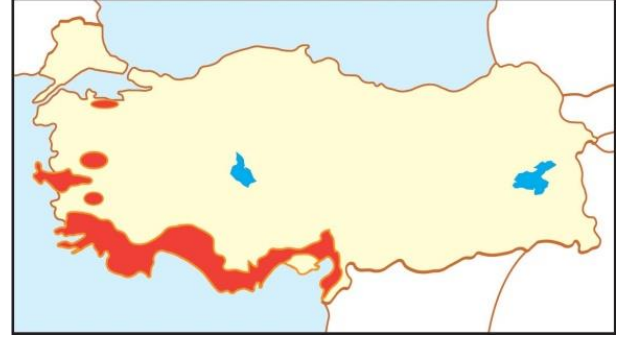
A) I B) II C) III D) IV E) V

- Delta ovalarında ve vadi tabanlarında yaygındır.
- Organik madde yönünden zengin, geçirgen, kolay işlenebilen verimli topraklardır.
- Türkiye'nin önemli tarım alanlarını oluşturur.
- Toprak katmanları oluşmamıştır.

7) Yukarıda bazı özellikleri verilen toprak türü aşağıdakilerden hangisidir?

- A) Kahverengi orman toprakları
 B) Kolüvyal topraklar
 C) Çöl toprakları
 D) Podzol topraklar
 E) Alüvyal topraklar





8) Yukarıdaki haritada gösterilen merkezlerin ortak özelliği aşağıdakilerden hangisi olabilir?

12) Yukarıdaki haritada yayılım alanı gösterilen toprak türü aşağıdakilerden hangisidir?

- A) Büyükbaş hayvancılığın gelişmiş olması
B) Aynı coğrafi bölgede yer almaları
C) Seramik sanayisinin gelişmiş olması
D) Doğal bitki örtülerinin benzerliği
E) Yetiştirilen tarım ürünleri

- A) Podzol B) Çernezyom
C) Alüvyal D) Kahverengi orman
E) Terra rossa

Kimyasal ayrışmanın etkili olduğu alanlarda toprak tabakasının oluşumu hızlıdır.

9) Buna göre, Türkiye'de aşağıda verilen alanlardan hangisinde toprak oluşumunun daha hızlı gerçekleştiği söylenebilir?

- A) Iğdır Ovası B) Haymana Platosu
C) Rize kıyıları D) Konya Ovası
E) Ergene Havzası

- I. Parke
II. Kâğıt
III. Reçine
IV. Mobilya
V. Tomruk

13) Yukarıdakilerden hangisi ormanlardan elde edilen, asıl ürünlerden biri değildir?

- A) I B) II C) III D) IV E) V

I. Mera hayvancılığı

II. Tuğla ve kiremit üretimi

III. Tarımsal ürün yetiştirme

IV. Seramik ve porselen üretimi

10) Yukarıdakilerden hangileri toprağın sanayide hammadde olarak kullanıldığının bir göstergesidir?

- A) I ve II B) I ve III C) II ve III
D) II ve IV E) III ve IV

11) Ülkemizin iç kesimlerinde yaygın olarak görülen kestane renkli bozkır topraklarıyla ilgili;

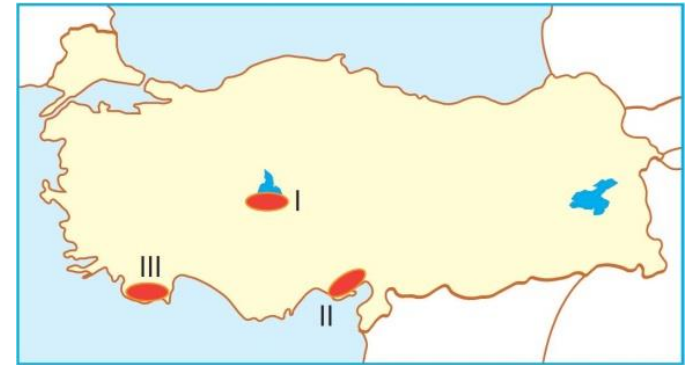
I. Genellikle tahıl tarımı yapılır.

II. Tuz ve kireç oranı azdır.

III. Bozkır bitki örtüsü altında gelişir.

İfadelerinden hangileri yanlıştır?

- A) Yalnız I B) Yalnız II C) Yalnız III
D) I ve II E) II ve III



14) Yukarıdaki haritada gösterilen alanlardaki toprak özellikleriyle ilgili,

I. Yağış yetersizliği ve kuraklıktan dolayı toprak nemliliği az, tuz ve kireç oranı fazladır.

II. Toprak horizonları gelişmiş, mineral madde bakımından zengindir.

III. Demiroksit oranı fazlalığından dolayı toprak derinliği fazla ve kahverengi orman toprakları yaygındır.

İfadelerinden hangileri yanlıştır?

- A) Yalnız I B) Yalnız II C) Yalnız III
D) II ve III E) I, II ve III

