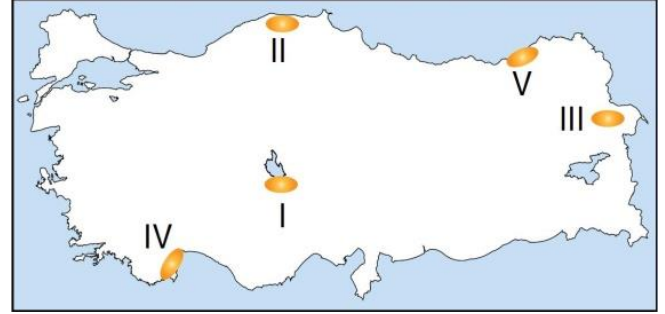


Türkiye'de yağış miktarında yükseltinin ve denize göre konumun büyük etkisi vardır.



1) Yukarıda Türkiye haritasında taranarak gösterilen yerlerden hangisinde, yaz mevsimindeki kuraklık diğerlerine göre **daha azdır**?

- A) I B) II C) III D) IV E) V

2) Türkiye'de dağların güneye bakan yamaçları için;

- I. Güneşlenme süresi fazladır.
II. Kalıcı kar sınırı daha alçaktır.
III. Sıcaklık daha fazladır.
IV. Tarım ürünleri daha geç olgunlaşır.

- ifadelerinden hangileri doğrudur?
A) I ve III B) I ve IV C) II ve III
D) II ve IV E) II, III ve IV

Bir bölgede yıl içerisinde gerçekleşen yağış miktarından daha fazla buharlaşma gerçekleşiyorsa, o bölgede kuraklık oluşur.

3) Buna göre, aşağıdaki illerin yağış ve buharlaşma miktarları düşünüldüğünde hangisinde kuraklığın **daha şiddetli olması beklenir**?

- A) Rize B) Bolu C) Hakkari
D) Diyarbakır E) Erzincan

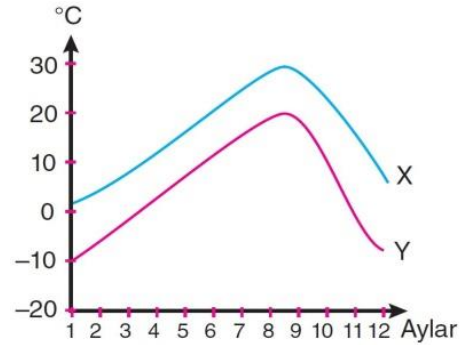
- Konya
- İzmir
- Samsun
- Kırıkkale
- Rize

4) Yukarıdaki şehirler hâkim olan iklim tipleri bakımından ikiye bölünebilirlerse hangi şehir merkezi gruplandırmanın **dışında** kalır?

- A) İzmir B) Samsun
C) Kırıkkale D) Rize
E) Konya

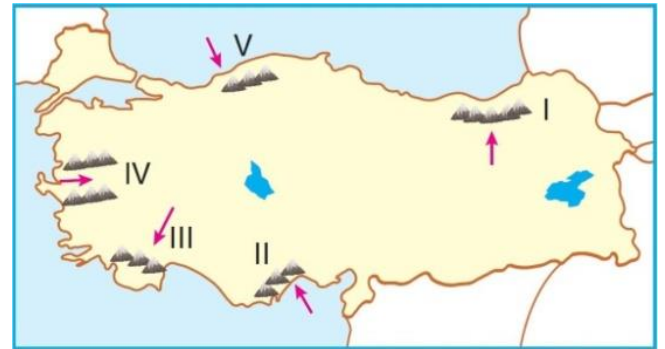
5) Buna göre, numaralı alanlardan hangileri sırasıyla **en az ve en fazla yağış alır**?

- A) I ve II B) I ve V C) II ve III
D) III ve V E) IV ve V



6) Yukarıda aylık ortalama sıcaklık grafikleri verilen merkezler aşağıdakilerden hangisi olabilir?

- | X | Y |
|--------------|-----------|
| A) Manisa | Hatay |
| B) Isparta | Trabzon |
| C) Edirne | Ardahan |
| D) Eskişehir | Mersin |
| E) Adana | Çanakkale |



7) Buna göre, haritada gösterilen oklar yönünde ilerleyen hava akımlarından hangisi yer şekillerinin etkisiyle fön rüzgârı **oluşturmaz**?

- A) I B) II C) III D) IV E) V

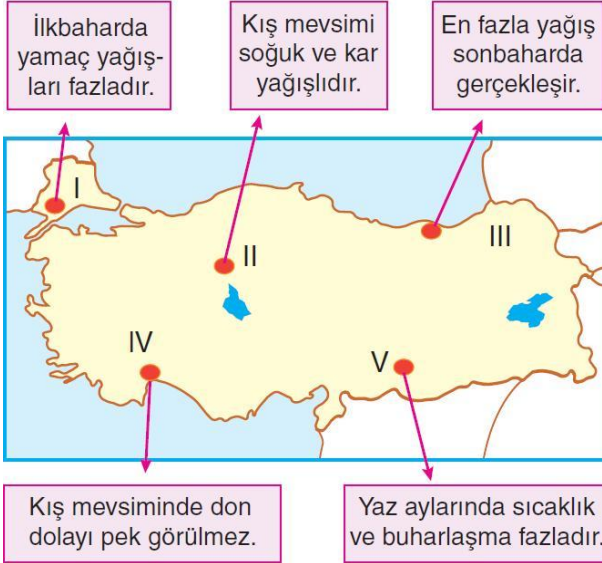


Aşağıdaki Türkiye haritasında bazı alanlar gösterilmiştir.



8) Bu alanların en fazla yağış aldıkları dönemler aşağıdakilerden hangisinde doğru olarak verilmiştir?

- | I | II | III |
|-------------|----------|----------|
| A) Yaz | Kış | İlkbahar |
| B) İlkbahar | Yaz | Kış |
| C) Yaz | Kış | Sonbahar |
| D) Kış | İlkbahar | Yaz |
| E) Sonbahar | Yaz | İlkbahar |



9) Yukarıdaki haritada gösterilen alanların iklim özellikleriyle ilgili verilen bilgilerden hangisi yanlıştır?

- A) I B) II C) III D) IV E) V

10) Her mevsimi nemli ve yağışlı geçen, bulutluluğun fazla olduğu Karadeniz kıyı kuşağında aşağıdaki ekonomik etkinliklerden hangisinin yürütülmesi zordur?

- A) Ormançılık B) Buğday tarımı
C) Fındık tarımı D) Mısır tarımı
E) Büyükbaş hayvancılık

Aşağıdaki haritada Türkiye'de etkili olan başlıca yerel rüzgârlar gösterilmiştir.



11) Haritada gösterilen rüzgârlarla ilgili aşağıda verilen ifadelerden hangisi yanlıştır?

- A) Lodos sıcaklık üzerinde artırıcı etkiye sahiptir.
B) Kış mevsiminde etkili olduğu günlerde poyraz hava sıcaklığını çok düşürür.
C) Samyeli Güneydoğu Anadolu'da buharlaşmayı artırır.
D) Poyraz ve Lodos oluşumunda Sibiryaya yüksek basıncı etkilidir.
E) Yıldız Karadeniz kıyılarında yer şekillerinin etkisiyle yağış oluşumuna neden olur.

Aşağıdaki haritada Türkiye'nin yıllık indirgenmiş sıcaklık ortalamalarının dağılışı gösterilmiştir.



12) Haritadaki bilgilere göre;

- I. En yüksek sıcaklık değerleri güney kesimlerde görülür.
II. Kuzeydoğu Anadolu'da en düşük sıcaklıkların yaşanmasında yükselti etkilidir.
III. En yüksek sıcaklıkla en düşük sıcaklık arasındaki fark 8 °C den fazladır.

İfadelerinden hangileri yanlıştır?

- A) Yalnız I B) Yalnız II C) Yalnız III
D) I ve II E) II ve III

