

1) Türkiye iklimi üzerinde;

- I. Enlem
- II. Yer şekilleri
- III. Tropikal rüzgârlar
- IV. Yükselti
- V. Okyanus akıntıları

faktörlerinden hangilerinin etkili olduğu söylenemez?

- A) I ve II B) I ve IV C) II ve III
D) III ve V E) IV ve V

2) Aşağıdakilerden hangisi Türkiye'de fazla yağış alan yerlerden biri değildir?

- A) Batı Karadeniz
B) Antalya Körfezi'nin doğusu
C) Tuz Gölü çevresi
D) Doğu Karadeniz
E) Menteşe Yöresi

Türkiye ılıman kuşakta yer alan, Akdeniz, Karadeniz ve Karasal iklim koşullarının hâkim olduğu bir ülkedir.

3) Türkiye'de iklim çeşitliliği üzerinde aşağıdakilerden hangisinin etkisi yoktur?

- A) Batı - doğu doğrultusunda yükseltinin değişmesinin
B) Bitki örtüsünün çeşitlilik göstermesinin
C) Dağların kıyıya uzanış doğrultusunun
D) Üç tarafının denizlerle çevrili olmasının
E) Enlemsel olarak orta kuşakta yer almasının

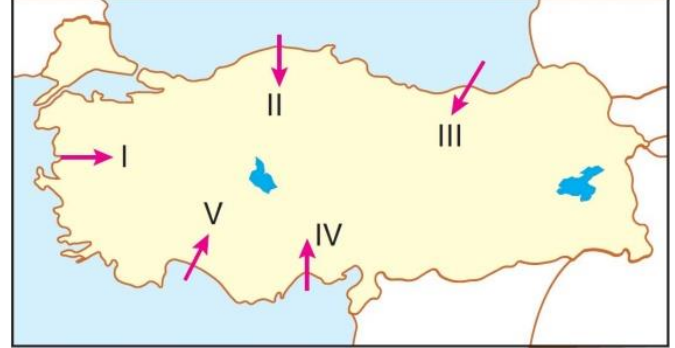
4) Türkiye'de,

- I. Cisimlerin gölgesinin cismin güney yönüne düşmemesi
- II. Dört mevsimin belirgin olarak yaşanması
- III. Güneş ışınlarının hiçbir zaman dik düşmemesi
- IV. Güneyden kuzeye gidildikçe genel olarak ortalama sıcaklığın azalması

özelliklerinden hangileri, Türkiye'nin Kuzey Yarımküre'de yer aldığını gösterir?

- A) I ve II B) I ve IV C) II ve III
D) III ve IV E) I, III ve IV

Dağların kıyıya paralel uzandığı alanlarda denizel iklim iç kesimlere ulaşamaz. Kıyı ile iç kesimler arasında büyük iklim farklılıkları oluşur.

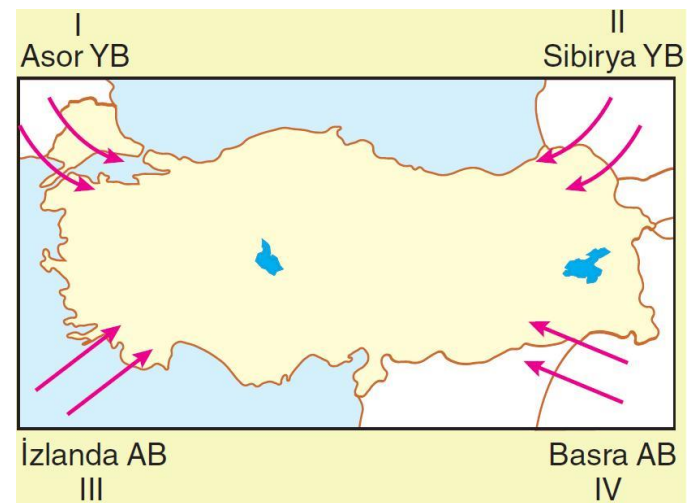


5) Buna göre, haritada gösterilen ok yönlerinden hangisinde kıydan 100 km gidildiğinde iklimde meydana gelen değişimin daha az olması beklenir?

- A) I B) II C) III D) IV E) V

6) Sıcaklığın yıl içerisindeki dağılışı bakımından aşağıdaki kent çiftlerinden hangi ikisi birbirine daha çok benzer?

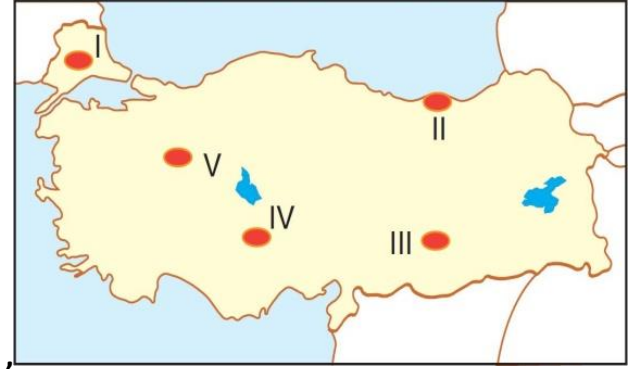
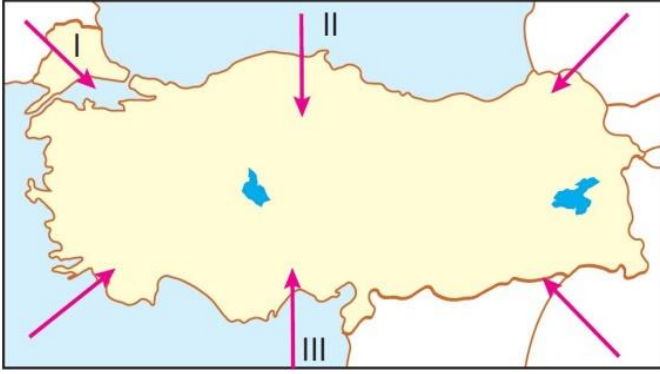
- A) Trabzon - Edirne
B) Manisa - Eskişehir
C) Konya - Ankara
D) Sivas - Antalya
E) Zonguldak - Malatya



7) Yukarıdaki haritada gösterilen ve Türkiye iklimi üzerinde etkili olan basınç merkezlerinden hangilerinin yeri yanlış verilmiştir?

- A) I ve II B) I ve III C) II ve III
D) II ve IV E) III ve IV





8) Yukarıdaki haritada numaralandırılarak gösterilen rüzgârların isimleri aşağıdakilerden hangisinde doğru verilmiştir?

I	II	III
A) Karayel	Kible	Poyraz
B) Poyraz	Yıldız	Lodos
C) Yıldız	Samyeli	Karayel
D) Karayel	Yıldız	Kible
E) Samyeli	Poyraz	Lodos

30° kuzey enlemi çevresinde ve Türkiye'nin güneybatısında oluşan bu basınç merkezi, yaz mevsiminde Türkiye'nin büyük bir kısmında sıcak ve kuru bir havanın oluşmasına neden olur.

9) Yukarıda özellikleri verilen basınç merkezi aşağıdakilerden hangisidir?

A) İzlanda AB	B) Asor YB
C) Sibirya YB	D) Basra AB
E) Ekvatorial AB	

10) Doğu Karadeniz'de denize bakan yamaçlarda özellikle kış aylarında etkili olan ve sıcaklığı artıran rüzgâr aşağıdakilerden hangisidir?

A) Karayel	B) Mistral	C) Bora
D) Yıldız	E) Fön	

I. Denize göre konum

II. Bitki örtüsü

III. Dağların uzanışı

IV. Yükselti

V. Hâkim rüzgâr yönü

11) Yukarıda verilenlerden hangisi Türkiye'de yağış dağılımını etkileyen faktörlerden değildir?

A) I	B) II	C) III	D) IV	E) V
------	-------	--------	-------	------

12) Yukarıdaki haritada gösterilen alanlardan hangisinde nemlilik ve bulutluluk daha fazladır?

A) I	B) II	C) III	D) IV	E) V
------	-------	--------	-------	------

13) Türkiye'de iklim özelliklerinin kısa mesafelerde değişmesinin temel nedeni aşağıdakilerden hangisidir?

A) Rüzgârlar	B) Bitki örtüsü
C) Enlem	D) Yerçekilleri
E) Basınç merkezleri	

Türkiye'de kuzeyden esen rüzgârlar sıcaklığı düşürürken, güneyden esen rüzgârlar sıcaklığı artırmaktadır.

14) Bu durum, Türkiye'nin aşağıdaki özelliklerinden hangisinin bir sonucudur?

A) Dağlık ve engebeli olmasının
B) Üç tarafının denizlerle çevrili olmasının
C) Dağların doğu - batı yönünde uzanmasının
D) Çevresinde oluşan basınç merkezlerinin
E) Kuzey Yarım Küre'de olmasının

I. Karadeniz kıyılarında maksimum yağış sonbaharda gerçekleşir.

II. Marmara Bölgesi'nde iklim çeşitliliği fazladır.

III. En az yağış alan bölge Güneydoğu Anadolu'dur.

IV. Kış mevsiminde en soğuk bölge Doğu Anadolu'dur.

V. Akdeniz kıyılarında yazlar sıcak ve kurak geçer.

15) Yukarıda Türkiye iklim özellikleriyle ilgili verilen bilgilerden hangisi yanlıştır?

A) I	B) II	C) III	D) IV	E) V
------	-------	--------	-------	------

